



GUIA DE MATEMÁTICAS 2 BÁSICO

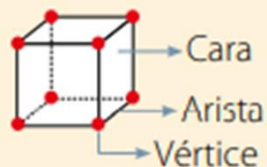
SEMANA 03 al 07 DE OCTUBRE

Algunas **figuras 3D** y sus características son:

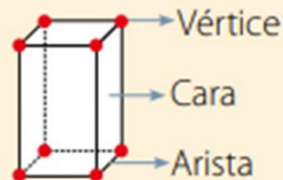
Figuras 3D

Tienen solo caras planas.

Cubo



Paralelepípedo

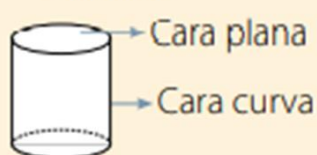


Tienen caras planas y curvas.

Cono

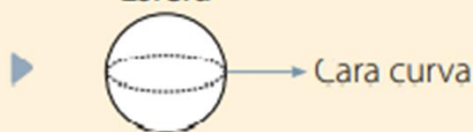


Cilindro



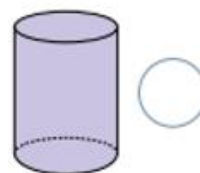
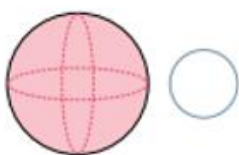
Tiene solo una cara curva.

Esfera

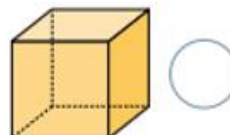
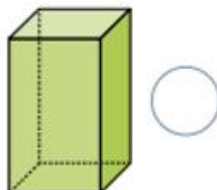


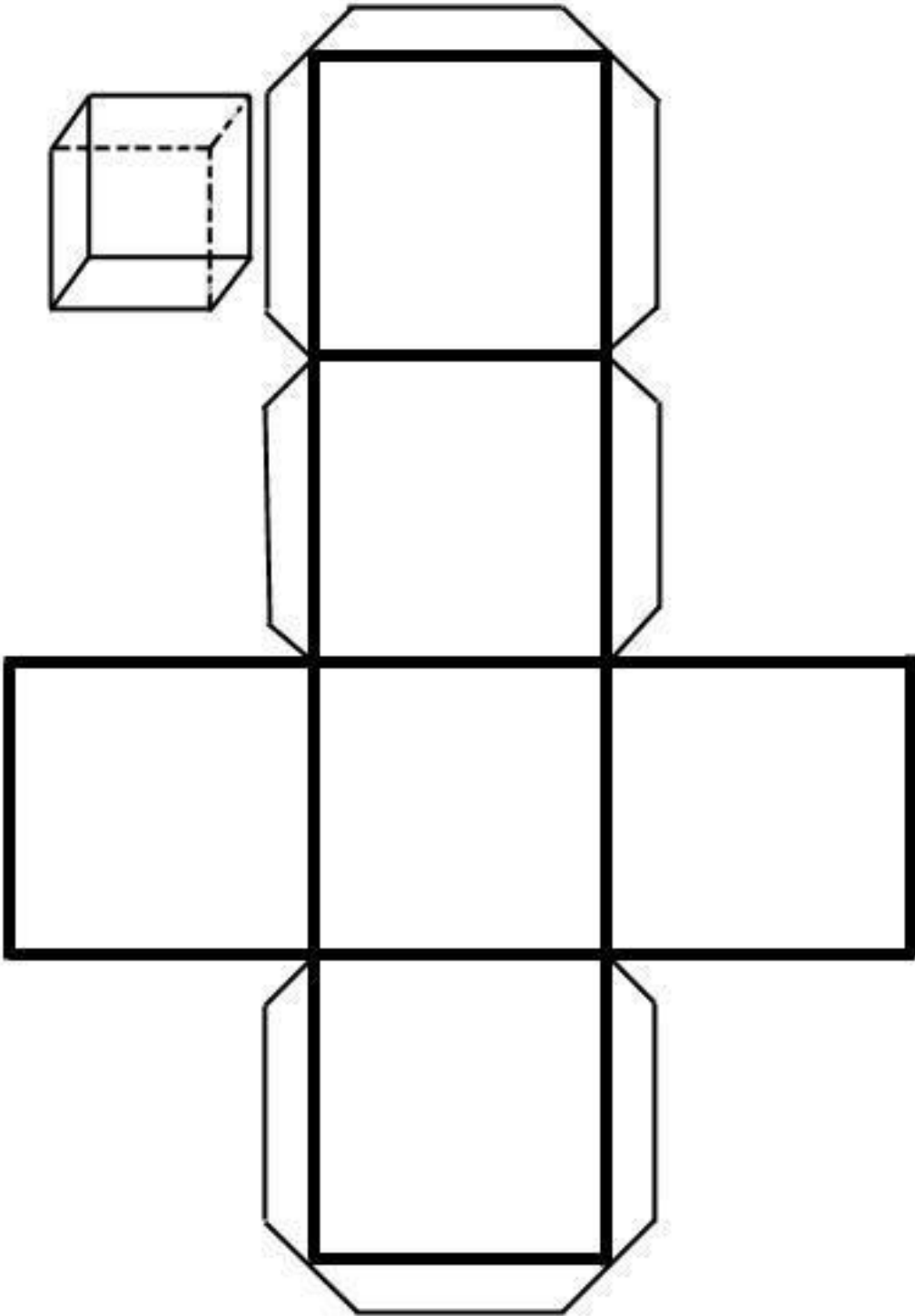
Identifica la figura 3D y márcala con un **✓**.

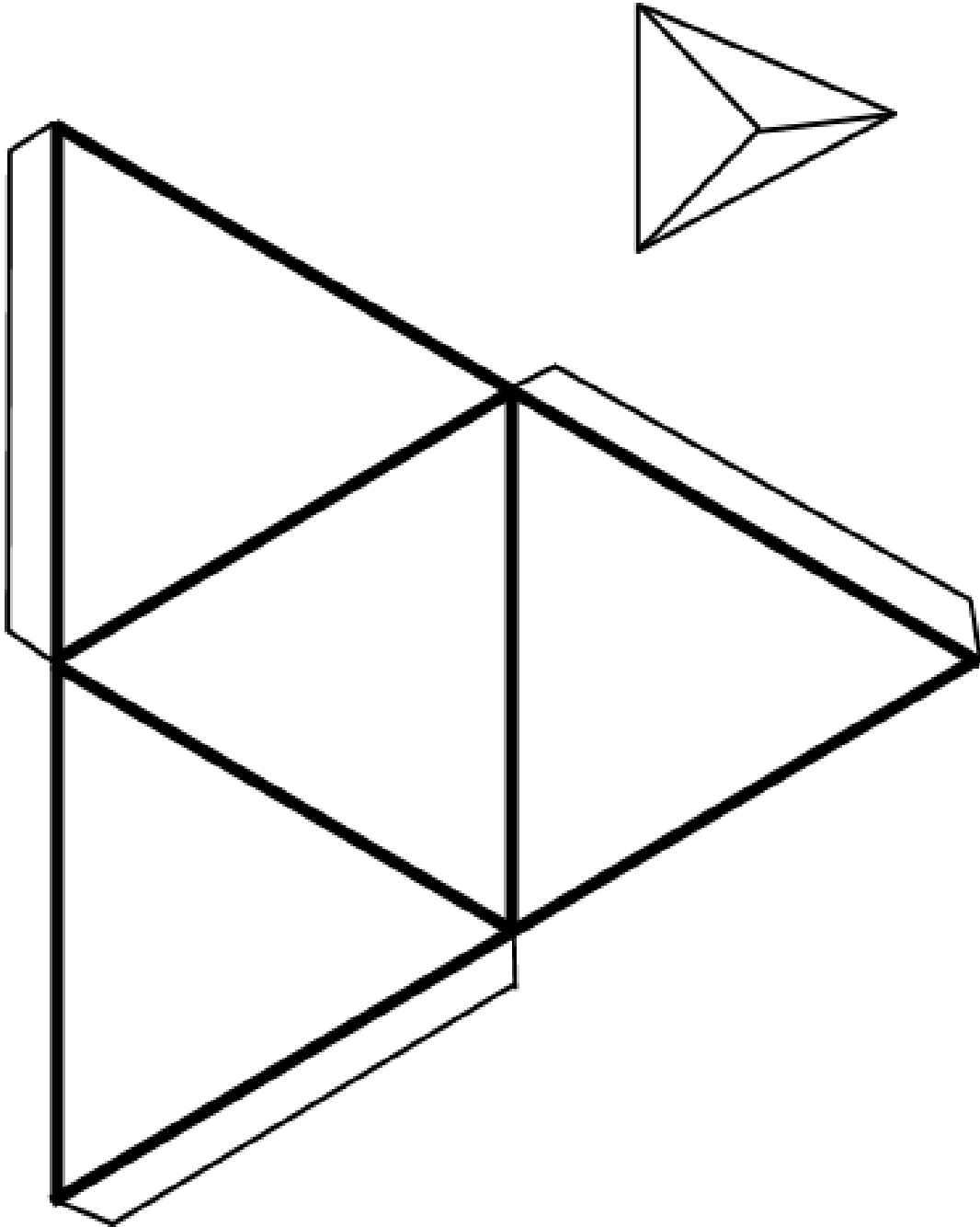
a. Tiene una cúspide, una cara plana y una cara curva.



b. Tiene 8 vértices, 12 aristas y 6 caras planas iguales.









Medición del tiempo

Horas Minutos Horas Minutos

Cuatro en punto. Cuatro y media.

Una hora = 60 minutos.
Media hora = 30 minutos.

Me levanto a las 7 en punto.

Salgo del colegio a las 4 en punto.

Me duermo a las 9 y media.

09:30 07:00 04:00

Son las once y media. En media hora más tengo cita con el doctor.

¿A qué hora lo atenderá el doctor?

11:00 11:30 12:00

Once y media Doce en punto



Horas y medias horas

1 Escribe la hora que marca cada reloj.



¡Aprendamos a cambiar dinero!

● Podemos cambiar monedas.

