

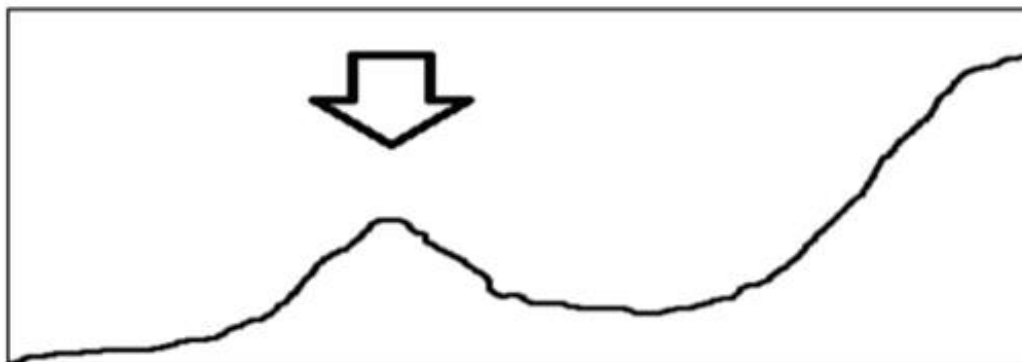


PRUEBA CIENCIAS SOCIALES E HISTORIA

5 BÁSICO SEPTIEMBRE

- 1 Una característica distintiva de los ríos Elqui, Limarí y Choapa, es que:
- a) Se alimentan exclusivamente de lluvias en la Zona Central.
 - b) Son los ríos más caudalosos de la Zona Sur.
 - c) Nacen en el altiplano del Norte Grande.
 - d) Cruzan los valles transversales del Norte Chico.
- 2 “Asegura las necesidades del presente sin comprometer la capacidad de las futuras generaciones para enfrentarse a sus propias necesidades”. La información anterior corresponde a:
- a) Desarrollo Sostenible.
 - b) Recursos Naturales.
 - c) Ciclos Naturales.
 - d) Represas.

3 Observa con atención el perfil topográfico o corte transversal que se presenta a continuación y luego responde:

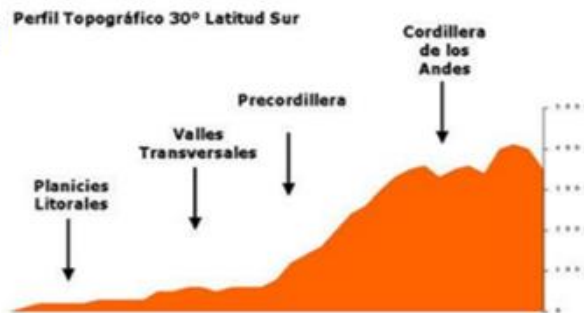


- 3 En Chile existen cuatro grandes unidades de relieve. La imagen anterior corresponde a un corte en el terreno que va de Oeste a Este en la latitud correspondiente a Santiago.
- ¿A qué macroforma del relieve chileno corresponde aquella unidad marcada con una flecha?
- a) Depresión Intermedia.
 - b) Planicies Litorales.
 - c) Cordillera de la Costa.
 - d) Cordillera de los Andes.



4) ¿En qué zona natural se encuentra

- a) Central.
- b) Norte Grande.
- c) Sur.
- d) Austral.



5) ¿La explotación de qué recurso mineral constituye la principal fuente de ingresos de Chile?

- a) Petróleo.
- b) Carbón.
- c) Hierro.
- d) Cobre.

6) ¿La explotación de qué recurso mineral constituye la principal fuente de ingresos de Chile?

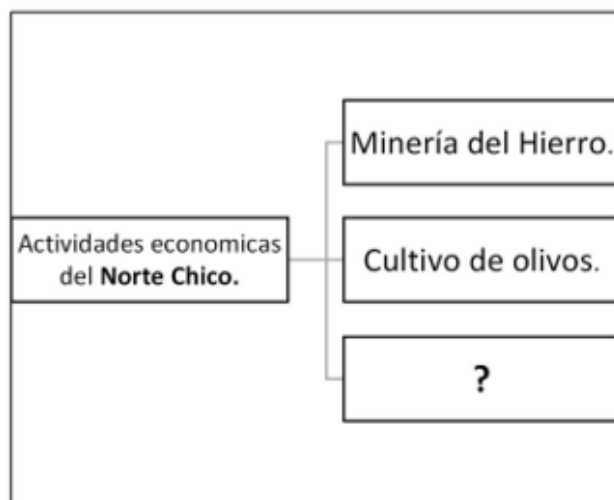
- a) Petróleo.
- b) Carbón.
- c) Hierro.
- d) Cobre.

7) Los recursos naturales más importantes en la zona son los mineros. En la Cordillera de los Andes y Cordillera de la Costa se localizan yacimientos de cobre, en la Depresión Intermedia hay yacimientos de salitre y grandes salares. Esta descripción corresponde a la zona natural:

- a) Central.
- b) Austral.
- c) Norte Chico.
- d) Norte Grande.



8 Observa el esquema y responde:



¿Cuál de las siguientes actividades completa el esquema?

- a) Industria Láctea.
- b) Industria Forestal.
- c) Industria Pisquera.
- d) Industria Agropecuaria.

9 “Terreno plano de mucha extensión situado a gran altitud entre cadenas montañosas”. La definición anterior corresponde a:

- a) Bahía.
- b) Altiplano.
- c) Embalse.
- d) Cuenca.

10 Esta zona se caracteriza por presentar en general bajas temperaturas y fuertes vientos, además de la presencia de glaciares, petróleo y gas natural. Esta descripción corresponde a la:

- a) Zona Central.
- b) Zona Norte Grande.
- c) Zona Sur.
- d) Zona Austral.

11 Chile cuenta con una gran diversidad de paisajes naturales como consecuencia de la influencia del clima y la interacción entre el relieve y la hidrografía en el paisaje natural.

Observa la imagen y luego responde:



¿En qué tipo de climas se desarrolla la Araucaria, árbol nativo de Chile?

- a) Polar.
- b) Desertico.
- c) Templado lluvioso.
- d) Estapárico cálido.



12) Observa el siguiente gráfico y luego responde:



A partir de la información entregada en el gráfico podemos concluir que:

- La producción de madera aserrada se concentra en la Zona Central y Zona Sur.
- Se concentran en las zonas indicadas debido a la presencia de un clima desértico.
- La producción de madera aserrada está ausente en las Zonas del Norte Grande y Chico porque en estos lugares no existen bosques debido a la aridez del clima.
- A y C son correctas.

13 Marca con un círculo la alternativa correspondiente a cada pregunta.

A. España y Portugal fueron los primeros países en iniciar los viajes de descubrimiento geográfico. Esto se debe a que:

- en esos países existía más dinero y mejores embarcaciones.
- los viajes fueron apoyados por sus monarquías.
- estos países tenían grandes riquezas.
- tenían gran cantidad de población.

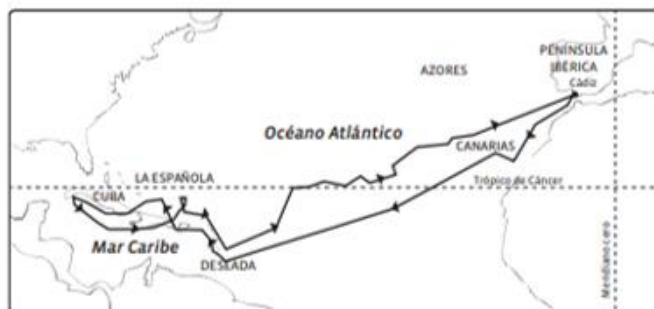
14 Embarcación que usaba la vela cuadrada y latina, utilizando la fuerza de los vientos para desplazarse a mayor velocidad. Por esta razón, favoreció los viajes de exploración geográfica.

La descripción corresponde a:

- Nao.
- Galera.
- Galeón.
- Carabela.

15 El mapa indica la ruta que siguió:

- Hernando de Magallanes.
- Américo Vespucio.
- Sebastián Elcano.
- Cristóbal Colón.





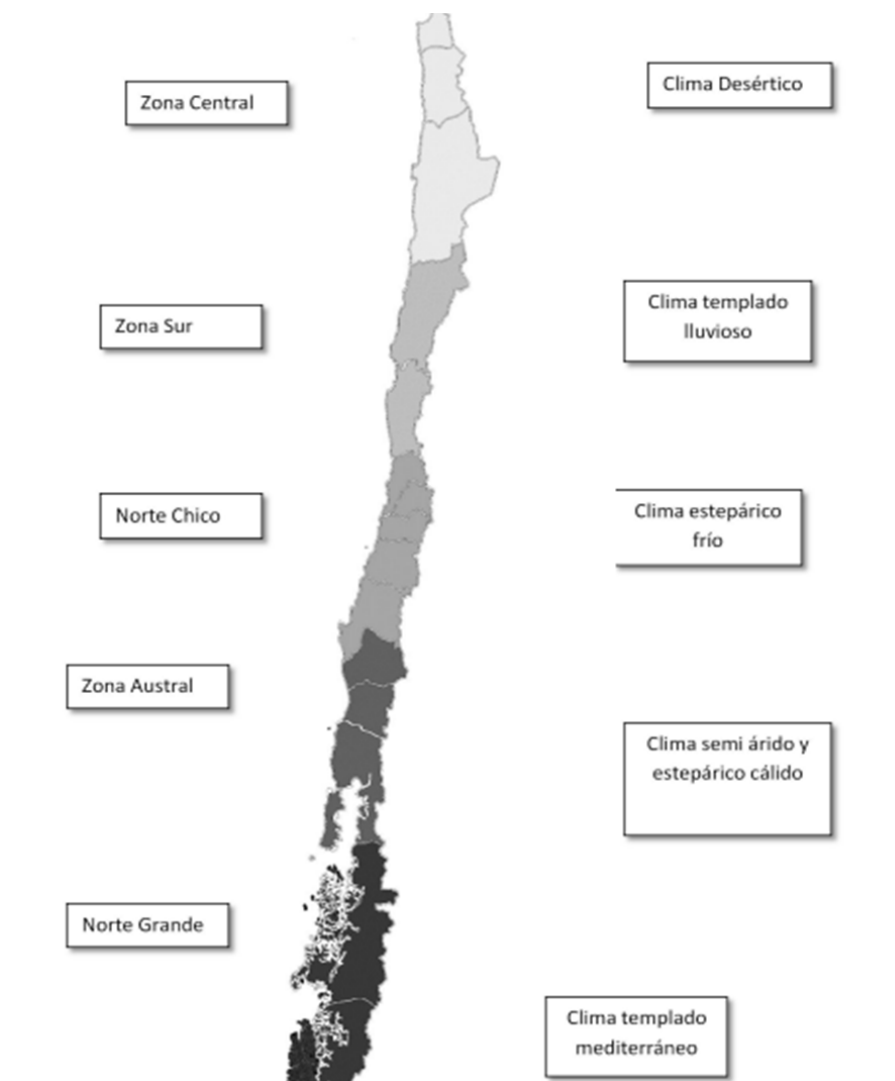
- 16** La sociedad colonial estaba dividida en clases sociales de acuerdo al origen étnico. La clase alta o aristocracia estaba formada por españoles y por:
- criollos.
 - mulatos.
 - mestizos.
 - indígenas.
- 17** El sistema de trabajo impuesto por los españoles en América, y en Chile, en particular, que entregaba un grupo de indígenas a la tutela de un conquistador, a cambio del pago de impuestos en dinero o trabajo por parte de estos últimos, se llamaba:
- Encomienda.
 - Parlamento.
 - Esclavitud.
 - Mita.
- 18** El **monopolio comercial** impuesto por el gobierno español, consistía en:
- enviar el oro y la plata hacia el norte de América.
 - impulsar a las colonias para comerciar entre ellas.
 - obligar a las colonias a comerciar solo con España.
 - enviar dos barcos al año desde América hasta España.
- 19** El modo usado para expandir la conquista, controlar y organizar los nuevos territorios por parte de los españoles fue a través de:
- la educación de los indígenas.
 - la fundación de ciudades.
 - establecer la esclavitud.
 - la evangelización.
- 20** División territorial que los españoles establecieron en América para ejercer el poder, se llamó:
- Consejo de Indias.
 - Real Audiencia.
 - Virreinato.
 - Cabildo.
- 21** Durante la Colonia, la máxima autoridad política del imperio español, que gobernaba sobre España y todos sus territorios coloniales, era el:
- Gobernador.
 - Corregidor.
 - Virrey.
 - Rey.



ITEMS 2 . COMPLETAR

Completa el siguiente cuadro.

INSTITUCIÓN	FUNCIONES (escribe 2)	¿Se ubicaba en Europa América?
Real Audiencia		
Cabildo		
Casa de Contratación		
Consejo de Indias		





Términos pareados: Une los conceptos de la columna A con las descripciones de la columna B, anotando la letra que corresponda. (1 punto c/u)

Columna A

- A. Clima.
- B. Relieve.
- C. Aguas superficiales.
- D. Flora.
- E. Fauna.
- F. Zona natural.

Columna B

- Corresponde a las especies vegetales de un lugar.
- Corresponde al conjunto de animales propio del lugar.
- Son las condiciones atmosféricas que caracterizan un territorio en un periodo extenso de tiempo.
- Corresponden a las diferentes formas que posee la superficie de un territorio.
- Corresponde a los diversos tipos de agua que se encuentran en la superficie terrestre.
- Corresponde a una porción del territorio que comparte ciertas características en común, como clima, flora y fauna, entre otros.

ITEMS 4. COLUMNAS