



PRUEBA CIENCIAS NATURALES

2 BÁSICO SEPTIEMBRE

1. ¿Qué función cumplen los músculos en nuestro cuerpo?

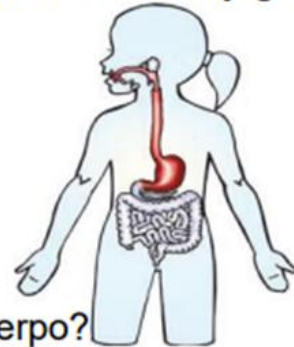
- a) Participan del movimiento
- b) Permiten transportar la sangre
- c) Se encargan de la respiración

2. ¿Cuáles de los siguientes órganos participa de la respiración?

- a) Estómago
- b) Pulmones
- c) Articulaciones.

3. Observa la imagen del cuerpo humano. ¿Cuál de las estructuras señaladas cumple la función de mezclar el alimento con los jugos gástricos?

- 1. Boca
- 2. Esófago
- 3. Estómago



4. ¿Qué función realiza el corazón en nuestro cuerpo?

- a) Intercambiar gases
- b) Digerir alimentos
- c) Bombear sangre

5. ¿Cuál de estos hábitos permite cuidar el corazón?

- a) Sedentarismo
- b) Dieta balanceada
- c) Comer muchos dulces



6. ¿En qué parte de nuestro cuerpo se localiza el corazón y pulmones?

- a) En el tórax
- b) En el abdomen
- c) En las extremidades superiores.

7. ¿Qué relación existe entre músculos y huesos?

- a) Permiten el movimiento del cuerpo
- b) Colaboran en la circulación de la sangre
- c) Colaboran en la nutrición de los órganos

8. ¿Cuál de los siguientes enunciados forma parte del sistema circulatorio?

- a) Venas
- b) Estómago
- c) Bronquios

9. Los alimentos se mezclan con la saliva en:

- a) La boca
- b) El estómago
- c) El intestino

10 Cuando levantamos un brazo, ¿qué estructuras actúan en conjunto?

- a) Huesos y corazón.
- b) Huesos y músculos.
- c) Músculos y pulmones.

11 ¿Cuál es la función del corazón en nuestro cuerpo?

- a.- Intervienen en la digestión
- b.- Permite inhalar y exhalar.
- c.- Bombear la sangre a todo el cuerpo.





12 Utilizando los números del 1 al 6, ordena estos animales según su tamaño en la vida real desde el más pequeño al más grande. (Escribe el número)

1 2 3 4 5 6



13 Une mediante una línea la imagen con el nombre que le corresponde.



Articulación

Hueso

Músculo



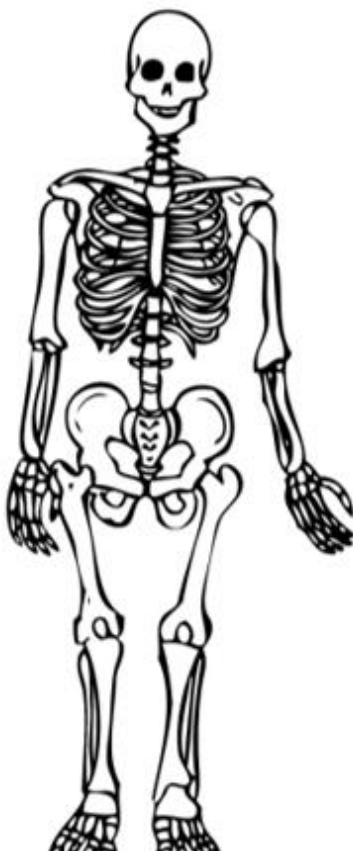
14 UNE CADA HUESO CON LA PARTE DEL CUERPO QUE CORRESPONDA.

Costillas

Cráneo

Extremidades superiores

Extremidades inferiores



15. Une con una flecha según corresponda

Corazón

Almacena la comida que ingieres y descompone estos alimentos en una mezcla líquida que vacía al intestino delgado.

Pulmones

Es el jefe de tu cuerpo. Dirige todo, controlando casi todo lo que haces, aun cuando estás durmiendo.

Estómago

Envía a todo el cuerpo la sangre que proporciona el oxígeno y los nutrientes que necesita. También transporta los desechos de los que debe deshacerse el organismo.

Cerebro

Trabajan con tu aparato respiratorio para permitirte inspirar aire fresco, deshacerte del aire viciado e incluso hablar.



16 Une con una línea cada animal vertebrado con el grupo al cual corresponde. Colorea las imágenes:



Ave

Anfibio

Reptil

Mamífero

Pez

17 Une el tipo de invertebrado con la descripción que le corresponde:

Arácnidos

Tienen antenas y pueden tener alas, poseen 6 patas.

Crustáceos

No tienen ni antenas, ni alas, poseen 8 patas.

Insectos

Poseen un cuerpo blando y la gran mayoría tiene conchas que los protegen.

Moluscos

Tienen dos antenas y pueden tener diez o más patas.






18 Une con una línea según como se desplaza cada uno de los animales.

- Camina
- Repta
- Vuela
- Nada



19 ¿Quién se puede reproducir?

		
Espejo	Planta	Escoba

¿Cuál de ellos crece?

		
Puma	Chaleco	Silla



20 En las siguientes imágenes, escribe el estado en que se encuentra el agua.



