



PRUEBA CIENCIAS SOCIALES

2 BÁSICO JULIO

De acuerdo con la siguiente imagen, respondo las preguntas 1, 2, 3 y 4.

Marco con una **X** la respuesta correcta:

1. La imagen anterior hace referencia a:

- a. Un circo.
- b. La ciudad.
- c. El campo.

2. El hospital está ubicado en el:

- a. Sur.
- b. Norte.
- c. Oeste.



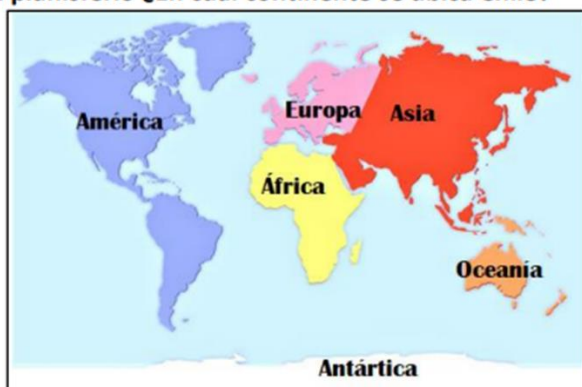
3. Observo la imagen y elijo la respuesta adecuada para este recorrido: casas pequeñas, hospital, iglesia.

- a. Norte, sur, este.
- b. Sur, oeste, este.
- c. Norte, sur, norte.

4. Según mi lógica, la fuente, que está ubicada en la mitad de la imagen, es:

- a. El norte.
- b. El agua.
- c. El centro.

3. Observa el planisferio ¿En cuál continente se ubica Chile?



- A. Antártica.
- B. América.
- C. África.



El campo y la ciudad

La vida en el campo es muy tranquila, no hay muchos vehículos y la gente es escasa, no hay edificios y hay muchos animales. En cambio, en la ciudad hay muchas personas, al igual que vehículos. Se escucha mucho ruido y hay enormes edificios, los únicos animales que se ven son domésticos.

6. En la ciudad puedo encontrar:

- a. Pocas personas y muchos animales.
- b. Muchos vehículos, edificios, y animales domésticos.
- c. Animales salvajes.

7. En el campo puedo encontrar:

- a. Muchos edificios y animales.
- b. Muchas personas y vehículos.
- c. Casas pequeñas, muchos animales y pocas personas.

8. La diferencia principal entre el campo y la ciudad es:

- a. Las sandalias que utilizan las personas.
- b. Los niños que estudian.
- c. La cantidad de personas que viven en ambos espacios.

9. Una forma fácil de cuidar el medio ambiente es:

- a. Correr diariamente 20 minutos.
- b. No malgastar el agua.
- c. Dañar las plantas.

10 Observa el siguiente paisaje ¿A qué zona natural de Chile crees que pertenece?



- A. Zona austral.
- B. Zona central.
- C. Zona norte.



11. Si necesitas ubicar a un desconocido en el paisaje anterior, dos referentes espaciales podrían ser:

- a. Las rocas y la casa.
- b. La sombrilla.
- c. Los pájaros y el sol.

12. Siguiendo el orden numérico para llegar al sitio estipulado, el recorrido sería:

- a. Playa, sombrilla, sol y carro.
- b. Rocas, sombrilla, casa y carro.
- c. Playa, rocas, cerco y casa.

13. Según lo anterior, los referentes espaciales sirven para:

- a. Dibujar agradablemente.
- b. Ubicar a las personas mediante objetos.
- c. Permitir comunicación.

14. ¿Cuál de estas imágenes hace referencia a una vía de evacuación?



15. ¿Cuál de estos **NO** es una conmemoración en Chile?



16. ¿Qué elemento del paisaje es el cuadro rojo?


- a) Cerro
- b) Mar
- c) Lago



17 ¿Qué aspecto caracteriza mejor a un pueblo sedentario?

- a) Vivían en un solo lugar.
- b) Se trasladaban constantemente en busca de alimentos.
- c) Usaban vestimenta de pieles de animales.

¿Cuál de las siguientes imágenes representa la vida sedentaria?



18 ¿Qué actividad hizo que el hombre cambiara su modo de vida Nómada a Sedentaria?

- a) El descubrimiento de la agricultura.
- b) La construcción de viviendas sólidas.
- c) El descubrimiento del fuego.

21. ¿A que Zona de Chile corresponde las siguientes imágenes?



a) Zona Norte

b) Zona Centro

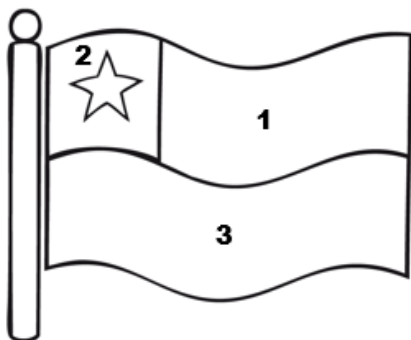
c) Zona Sur



22 Observa la siguiente imagen ¿Qué modo de vida crees que tenían?



- A. Nómada.
- B. Sedentario.
- C. No se puede saber.



Observa la imagen anterior y responde las preguntas de la 23 a la 25

23. ¿ Que color es el número 1?

- a) Rojo
- b) Blanco
- c) Azul

24. ¿ Que color es el número 2?

- a) Rojo
- b) Blanco
- c) Azul

25. ¿ Que color es el número 3?

- a) Rojo
- b) Blanco
- c) Azul

Observa las imágenes y escribe en los recuadros el nombre del alimento que trajeron los españoles a América:

cebolla - trigo - carne de vacuno - zanahoria - lechuga - limón





PINTA LOS LEGADOS DE LOS ESPAÑOLES



El mestizaje en mi comunidad.



ESPAÑOLES

- 1.
- 2.

PUEBLOS ORIGINARIOS

- 1.
- 2.

OBSERVA Y ESCRIBE DOS HERENCIAS O LEGADOS DE LOS ESPAÑOLES Y DOS DE LOS PUEBLOS ORIGINARIOS